

ŞEHİR ADI BULMACA

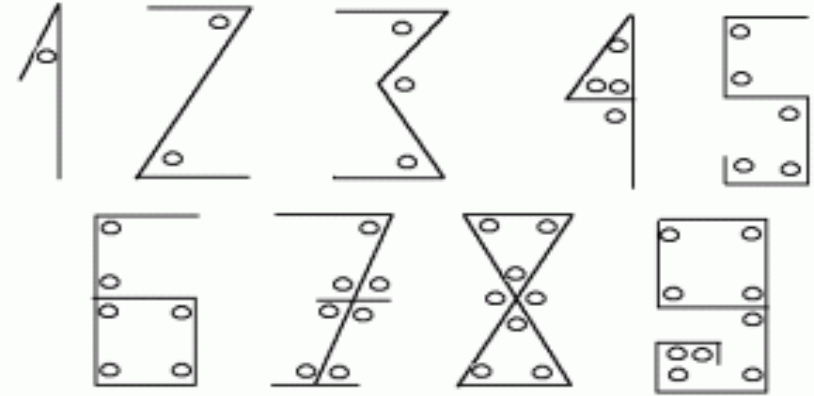
BULMACADA GİZLENMİŞ OLAN 81 İLİMİZİ BULUNUZ .

ADANA	BURDUR	GÜMÜŞHANE	KÜTAHYA	SİNOP	KIRIKKALE
ADİYAMAN	BURSA	HAKKARİ	MALATYA	SİVAS	BATMAN
AFYONKARAHİSAR	ÇANAKKALE	HATAY	MANİSA	TEKİRDAĞ	ŞIRNAK
AĞRI	ÇANKIRI	ISPARTA	KAHRAMANMARAŞ	TOKAT	BARTIN
AMASYA	ÇORUM	İÇEL	MARDİN	TRABZON	ARDAHAN
ANKARA	DENİZLİ	İSTANBUL	MUĞLA	TUNCELİ	İĞDIR
ANTALYA	DİYARBAKIR	İZMİR	MUŞ	ŞANLIURFA	YALOVA
ARTVİN	EDİRNE	KARS	NEVŞEHİR	UŞAK	KARABÜK
AYDIN	ELAZIĞ	KASTAMONU	NİĞDE	VAN	KİLİS
BALIKESİR	ERZİNCAN	KAYSERİ	ORDU	YOZGAT	OSMANİYE
BİLECİK	ERZURUM	KIRKLARELİ	RİZE	ZONGULDAK	DÜZCE
BİNGÖL	ESKİŞEHİR	KİRŞEHİR	SAKARYA	AKSARAY	
BİTLİS	GAZİANTEP	KOCAELİ	SAMSUN	BAYBURT	
BOLU	GİRESUN	KONYA	SİİRT	KARAMAN	

A	J	K	Ş	A	N	T	A	L	Y	A	H	K	K	L	Ş	Ğ	H	B	İ	L	E	C	İ	K
M	F	D	İ	Y	A	R	B	A	K	I	R	Ü	G	E	L	A	Z	I	Ğ	J	O	R	D	U
A	I	R	K	A	Y	S	E	R	İ	R	Ç	T	Y	T	K	A	R	S	T	Y	L	H	Ş	A
S	S	R	Ç	O	R	U	M	T	J	K	A	A	M	K	B	U	R	D	U	R	H	A	K	Ğ
Y	P	N	E	V	Ş	E	H	İ	R	A	N	H	B	S	M	D	G	S	R	T	Y	T	U	R
A	A	S	İ	D	F	G	Y	K	G	H	K	Y	A	K	U	Y	E	A	P	T	G	A	Ğ	İ
T	R	A	S	T	T	Y	K	Ş	A	R	I	A	L	I	Ğ	P	R	M	Ğ	E	İ	Y	N	M
P	T	D	T	R	B	R	A	A	Z	A	R	H	I	R	L	K	Z	S	K	K	R	Y	E	T
B	A	I	A	İ	S	N	I	M	I	T	K	A	O	U	U	L	İ	E	P	D	H			
O	D	Y	N	B	T	İ	T	L	A	A	D	O	E	L	D	C	R	N	A	R	S	M	İ	G
L	H	A	B	Z	L	N	A	I	N	N	V	K	S	A	V	A	U	J	D	D	U	A	R	Ü
U	A	M	U	O	İ	O	M	U	T	M	S	A	İ	R	H	E	M	H	A	A	N	R	N	M
R	K	A	L	N	S	P	A	R	E	A	A	T	R	E	R	L	Y	Ğ	N	Ğ	Ğ	D	E	Ü
T	K	N	T	Y	P	Ğ	N	F	P	R	K	Y	T	L	E	İ	J	M	A	V	B	İ	J	Ş
Y	A	R	U	T	H	N	U	A	D	A	A	F	Y	İ	R	I	Ğ	D	I	R	F	N	V	H
P	R	B	U	R	S	A	R	T	V	Ş	R	D	O	N	Z	B	S	İ	V	A	S	J	K	A
Ğ	İ	Y	A	L	O	V	A	R	A	T	Y	E	Z	Ş	İ	M	A	K	S	A	R	A	Y	N
A	Ç	M	A	L	A	T	Y	A	N	D	A	N	G	I	N	V	B	A	N	K	A	R	A	E
R	J	Z	N	İ	Ğ	D	E	J	K	Ü	F	İ	A	R	C	K	K	I	R	Ş	E	H	İ	R
T	Ç	A	N	A	K	K	A	L	E	Z	C	Z	T	N	A	O	C	S	A	R	H	K	N	Y
V	D	F	T	U	N	C	E	L	İ	C	R	L	Y	A	N	N	J	İ	Y	İ	U	Ş	A	K
İ	Z	O	N	G	U	L	D	A	K	E	D	İ	R	K	Y	Y	M	İ	D	Z	Ç	Ö	J	T
N	R	T	N	H	E	S	K	İ	Ş	E	H	İ	R	M	K	A	J	R	I	E	İ	Ç	E	L
N	B	A	R	T	I	N	C	M	A	N	İ	S	A	T	Y	P	J	T	N	İ	Z	M	İ	R
M	U	Ş	H	A	F	Y	O	N	K	A	R	A	H	İ	S	A	R	C	B	İ	N	G	Ö	L
H	K	A	R	A	M	A	N	C	V	U	K	I	R	I	K	K	A	L	E	R	T	H	K	Ş
B	A	T	M	A	N	J	A	R	D	A	H	A	N	J	B	A	Y	B	U	R	T	R	Y	K
O	S	M	A	N	İ	Y	E	K	A	R	A	B	Ü	K	G	H	B	N	K	İ	L	İ	S	R



.....  
**İLKOKULU**  
**4/..... SINIFI YARI YIL TATİLİ ÖDEVİ**



**SOSYAL BİLGİLER**




**Adım Soyadım:**

.....

**SOSYAL BİLGİLER**  
**KENDİMİ TANIYORUM**

**KURAL:** Aşağıdaki soruların cevaplarını bulmacadaki yerine yazınız.

- 1-İnsanların zihinsel olarak ürettikleri fikir.
- 2-çevremizdeki insanların, nesnelerin veya olayların insanların iç dünyasında meydana getirdiği hisler.
- 3-Hoşgörü denilince akla gelen ünlü Türk düşünürü.
- 4-İnsanların farklı duygu ve düşüncelerine saygı duyup bunu bir zenginlik olarak görebilmek.
- 5-Bireyleri birbirinden ayıran özellik.
- 6-Toplumu oluşturan insanların her biri.
- 7-Birine veya bir olaya karşı gösterilen tavır, hareket.
- 8-Başka insanların duygularını fark edip onları paylaşmak.
- 9-Bireylerin birbirine benzer olma hali.
- 10-Farklı düşüncelere karşı duymamız gereken duygu.



**Üretimden tüketime**  
**ETKİNLİK ÇALIŞMA KAĞIDI 10**

**YAŞAMIMIZDA MESLEKLER**

Aşağıda verdiğimiz meslekler ilgili araştırma yapınız. Bu mesleklerin hayatımızdaki yerlerini belirleyiniz.

Ayakkabı tamircisi olmasaydı neler yaşardık?

Musluk tamircisi olmasaydı neler yaşardık?

Elektrikçi olmasaydı neler yaşardık?

Çöpçü – temizlik işçisi olmasaydı neler yaşardık?

Terzi olmasaydı neler yaşardık?

Fırıncı olmasaydı neler yaşardık?

Çiftçi olmasaydı neler yaşardık?

Yukarıda saydığımız meslekler içerisinde, önemli olmayan bir meslek var mı? Tüm bu mesleklerin önemini düşünüp yazınız?

## ETKİNLİK ÇALIŞMA KAĞIDI 9

Parayı ilk kullanan uygarlık olan Lidyalılar hakkında bilgi toplayınız.

**KURAL: Aşağıda verilen kutucukları uygun şekilde eşleştirelim. Şifreyi bulalım.**

M

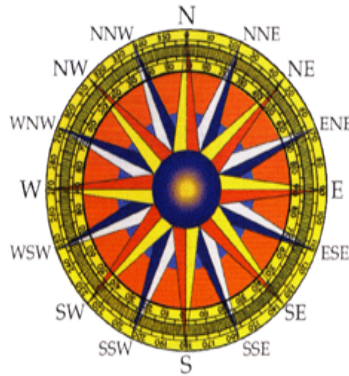


## YAŞADIĞIMIZ YER

**KURAL: Aşağıdaki ifadelerin doğruluğunu tespit edelim. Gizli şifreyi bulalım**

D	Y
K	I
U	S
B	T
Y	U
P	M
Y	D
I	N
F	L
D	K
I	H
Z	V
T	I

1. Kutup yıldızı daima kuzeyi gösterir.
2. Ana yönler doğu, batı, kuzey ve güneydir.
3. Kuzey ile batı arasındaki yön kuzeydoğudur.
4. Kroki ölçekli bir çizimdir.
5. Karıncalar yuvalarını soğuktan korumak için topraklarını kuzeye yığarlar.
6. Havanın sıcaklığını termometre ile ölçeriz.
7. Günümüzde en gelişmiş yön bulma aracı pusuladır.
8. Plüviyometre sıcaklık ölçen bir araçtır.
9. Deprem esnasında çok kapan tutun pozisyonu almak gereklidir.
10. Ara yönler iki yönün arasında kalan yönlerdir.
11. Dört tarafı denizlerle çevrili kara parçasına ada denir.
12. Dağ, ova, deniz beşeri unsurlardır.



ŞİFRE:

<input type="text"/>	<input type="text"/>	<input type="text"/>	<input type="text"/>	<input type="text"/>	<input type="text"/>	<input type="text"/>	<input type="text"/>	<input type="text"/>	<input type="text"/>	<input type="text"/>	<input type="text"/>
----------------------	----------------------	----------------------	----------------------	----------------------	----------------------	----------------------	----------------------	----------------------	----------------------	----------------------	----------------------

## Üretimden tüketime

### ETKİNLİK ÇALIŞMA KAĞIDI 8

#### PARANIN TARİHİ

**Aşağıda verilen soruları yanıtlayınız.**

Değiş – tokuş (takas) yöntemi nasıl bir yöntemdir?

Parayı ilk hangi uygarlık bulup kullandı?

Anadolu’da ilk paranın adı neydi? Hangi maddelerden üretildi?

Osmanlı’da basılan sikkeye ne ad verilirdi? Bu sikkelerin ön ve arka yüzlerinde neler bulunurdu?

Hükümdarlar için para basmanın önemi neydi?

Osmanlı’da ilk altı sikkelyi hangi hükümdar bastırmıştır?

Mangır hangi hükümdar döneminde, neden bastırılmıştır?

Osmanlı’da kuruşa dayalı para sistemi hangi hükümdar döneminde olmuştur?

Türkiye Cumhuriyeti’nde Latin Alfabesi kullanılan madeni para ne zaman çıkarılmıştır?

## MEHMETLERİN BULAŞIK MAKİNESİ

Aşağıda verilen metni okuyunuz.

Mehmet'in annesi bulaşık makinesi aldı. Bulaşık makinesi alındıktan üç gün sonra arızalandı. Mehmet'in annesi makineyi aldığı bayiye gitti. Sorunu uygun bir dille anlattı. Ancak mağaza sahibi hatayı kabul etmedi. Mehmet'in annesi bayiden bir sonuç alamadan ayrıldı.

Satıcının tutumunu doğru buluyor musunuz? Neden?

Mehmet'in annesinin yapacağı en doğru şey nedir? Bu doğrultuda metni tamamlayınız.

## GEÇMİŞE YOLCULUK

**KURAL:** Aşağıdaki cümleleri okuyalım doğru ve yanlış oluşlarına göre gerekli harfleri boyayalım. Boyadığımız harfleri yukarıdan aşağıya okuduğumuzda şifreye ulaşacağız.


	<u>D</u>	<u>Y</u>
	K	L
1. Aile bireyleri birbirine kan bağı ile bağlıdır.	I	R
2. Sözlü olarak geçmişimizi öğrenmeye çalışmak sözlü tarihtir.	P	R
3. Bilgisayar ve gazeteden aile tarihimizi öğrenebiliriz.	K	Z
4. Dil, duygu ve düşüncelerimizi ifade etmeye yarar.	Z	P
5. Milli kültür bütün toplumlarda aynıdır.	A	I
6. Pizza bizim kültürümüze ait bir yiyecektir.	N	E
7. Gelinlerin eskiden atla günümüzde araba ile getirilmesi kültürel değişimdir.	A	T
8. Milli ve dini bayramlarımız milli kültürün bir parçasıdır.	R	O
9. Güreş ata sporumuzdur.	H	G
10. Nasrettin hoca yabancı kültürlerle ait bir kahramandır.	U	Ü
11. Ramazan ve kurban bayramı milli bayramlarımızdır.	R	P
12. 19 mayıs 1919'da kurtuluş savaşı başlamıştır.	E	V
13. Mustafa Kemal Kurtuluş savaşında büyük başarılar kazanmıştır.	A	Ş
14. Kurtuluş savaşında batı ve güney olmak üzere iki cephemiz vardır.	O	L
15. Sakarya savaşı kurtuluş savaşının ilk zaferidir.	E	S
16. Türk milletinin vatanı için gösterdiği üstün çabanın adı milli mücadeledir.	R	I
17. Sakarya Savaşı sonunda Atatürk' gazi unvanı ve mareşallik rütbesi verilmiştir.	i	Ü
18. Karagöz ve Hacivat gölge oyunu kahramanlarımızdır.		

**ŞİFRE:**

## BULMACA AVCISI

**KURAL: Açıklaması verilen bilgilerin cevaplarını bulmacaya yazalım.**

1. Toplumı oluşturan kişilerden her biri.
2. İnsanların aile ve akrabalarını gösteren ağaç şeklindeki şema.
3. İnsanların birlik beraberlik ve dayanışma içinde olması.
4. Aralarında kan bağı olan insanlar.
5. Milli ant.
6. Anne baba ve çocuklardan oluşan topluluk.
7. Bir yerin kuşbakışı görünüşünün çizimi.
8. Örf, adet.
9. Ata sporlarımızdan biri.



## Üretimden tüketime ETKİNLİK ÇALIŞMA KAĞIDI 6

### GIDA MADDESİ ALIYORUM

**Aşağıda verilen soruları yaptığınız bir market alışverişini esas alarak yanıtlayınız.**

Aldığınız ürünün adı nedir?

.....

.....

Aldığınız ürünün fiyatı nedir?

.....

.....

Aldığınız ürünün fiyatını diğer marketlerde de sormuş muydunuz?

.....

.....

Aldığınız ürünün üretim tarihine baktınız mı?

.....

.....

Aldığınız ürünün son kullanma tarihine baktınız mı?

.....

.....

Aldığınız ürünün son kullanma tarihi geçmiş ise ne yapmalısınız?

.....

.....

Aldığınız ürünün kalitesine baktınız mı?

.....

.....

Alışveriş sonrası fiş ya da fatura aldınız mı?

.....

.....

Bilinçli bir tüketici misiniz?

.....

.....

Bilinçli tüketici , dayanıklı tüketim malı alırken nelere dikkat etmelidir?

.....

.....

Üretimden tüketime  
ETKİNLİK ÇALIŞMA KAĞIDI 5

BİLİNÇLİ TÜKETİCİYİM

Aşağıda verilen soruları yanıtlayınız.

Bilinçli bir tüketici alışveriş yaparken, önce ihtiyaçlarımızı mı, yoksa isteklerini mi alır? Neden?

.....  
.....  
.....  
.....

Bilinçli bir tüketici alışveriş yaparken, ürünün hangi özelliklerine dikkat etmelidir?

.....  
.....  
.....  
.....

Alışveriş yaparken neden fatura ya da fiş almalıyız?

.....  
.....

TÜKETİCİ OLARAK HAKLARIM VAR

Tüketicini haklarını savunan derneklerin adlarını araştırınız. Tüketici olarak haklarımızın neler olduğunu araştırınız.

Araştırmalarınızı yazınız.

.....  
.....  
.....  
.....

Tüketici derneklerinin üstlendiği görev nedir?

.....  
.....  
.....

SOSYAL BİLGİLER TESTİ

1-Kollarımızı iki yana açıp sağ kolumuzu güneş'in doğduğu yöne uzattığımızda sağ kolumuz....., sol kolumuz ..... gösterir. Yüzümüz..... bakarken ..... yönü arkamızda kalır. Sırasıyla boşluklara gelecek kelimelere hangi şıkta verilmiştir?

A)Kuzeyi-güneyi-doğuya-batı

B)Güneyi-kuzeyi-batı-doğu

C)Batı-doğuyu-kuzeyi-güney

D)Batı-güneyi-doğuyu-batı

2-

Deniz ve okyanusların kara içlerine sokulmuş kısmına denir.	Körfez
Dört tarafı sularla çevrili kara parçasına denir.	Vadi
Geniş ve tuzlu su kütlelerine denir.	Deniz
Derin akarsu <u>vadileriyle</u> yarılmış yüksekte kalan engebeli düzlüklere denir.	Plato

Yukarıdaki tabloda eşleştirilen bilgilerden kaç doğrudur? A)4 B)3 C)2 D)1

3-Aşağıdaki bulmacada hangi sorunun cevabı yer almamaktadır?

a-Yer kabuğunda meydana gelen kırılmalar, ani ve şiddetli sarsıntı

b-Dik yamaçlardan büyük kar kütlelerinin aşağı doğru kayması

c-Eğimi fazla olan, çok yağış alan alan yamaçlardaki toprağın aşağı doğru kayması.

d-Akarsuların taşması sonucu oluşan su baskını.

e-Toprağın su, rüzgar gibi etkenlerle sürüklenerek bir yerden başka bir yere taşınması.

E	R	O	Z	Y	O	N
S	E	L	L	S	A	Ç
D	E	P	R	E	M	I
A	D	R	S	E	B	Ğ

A) a B) b C) c D) e



4-

1- Kabataslak yapılan çizimlerdir.

3- Ayrıntılı ve ölçülü yapılan bir çizimdir.

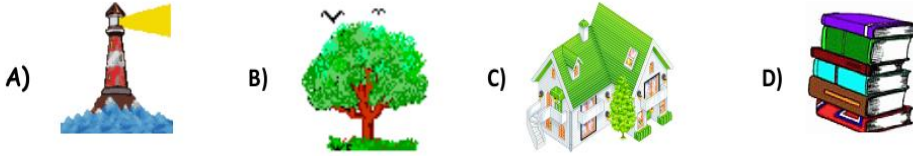
2- Adres tarif etmekte kullanılabilir.

4- Kuşbakışı yapılan bir çizimdir.

Numaralandırılmış cümlelerin hangisinde krokinin bir özelliğinden bahsedilmemiştir?

A) 1 B) 2 C) 3 D) 4

5-Aşağıdakilerden hangisi doğal bir varlıktır?



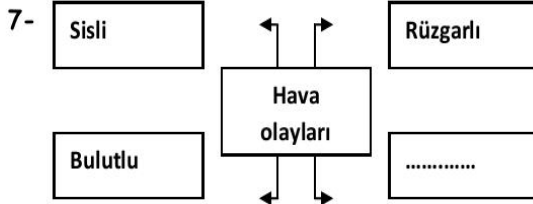
6-Depremle ilgili aşağıda verilenlerden hangisi yanlıştır?

A)Yer kabuğundaki kırılmalar depreme yol açar.

B)Deprem ne zaman olacağı önceden tespit edilmeyen doğal bir afettir.

C)Deprem yol açtığı zararları önlem alarak azaltabilir.

D)Bilimsel çalışmalar yaparak depremi önleyebiliriz.



Yukarıdaki kavram haritasında boş bırakılan yere aşağıdakilerden hangisi yazılabilir?

A)Deprem B)Yangın C)Yağmurlu D)Heyelan

Üretimden tüketime

ETKİNLİK ÇALIŞMA KAĞIDI 4

BÜTÇEMİ HAZIRLIYORUM

Aşağıda verdiğimiz tabloya ihtiyaçlarınızı ve ödediğiniz parayı yazınız. Bir bölüme de gelirinizi yazınız.

İhtiyaçlarım	Fiyatları	Gelirim

Bütçenizi yaptıktan sonra, harcamalarınız ile ilgili düşünceleriniz değişti mi?

.....

.....

.....

.....

.....

.....

• Pazarda aynı ürünlerin fiyatları farklı mıdır? Pazarı denetleyen var mı?

Pazarda aynı ürünü farklı fiyatlarda bulabiliriz. Çünkü satıcılar aynı ürünü alırken ödedikleri fiyata göre etiket koyarlar. Bir satıcı aynı ürünü, üreticiden ucuza almış olabilir. Bu da onun satış fiyatına yansır. Ancak bir ürünü çok yüksek fiyata satamazlar. Bunun nedeni pazarı denetleyen zabıta memurlarıdır. Zabıta memurları, bulunduğunuz kentin belediyesine bağlı çalışırlar.



Üretimden tüketime  
ETKİNLİK ÇALIŞMA KAĞIDI 3

ALİŞVERİŞ YAPIYORUM

Ailenizle bir gün pazara gidiniz. Pazara gittiğinizde etrafı gözlemleyiniz. Aşağıda verilen soruları yanıtlayınız.

Pazara gitmeden önce bir liste hazırladınız mı? Neden?

.....  
.....

Pazarda kimler oluyor?

.....  
.....

Pazarda bulunan ürünler nelerdir?

.....  
.....

Pazarda satılan ürünler nerelerden geliyor?

.....  
.....

Pazarda satılan ürünlerin üzerinde fiyat etiketi var mı?

.....  
.....

Pazarda satılan aynı ürünler arasında fiyat farkı var mı? Neden?

.....  
.....

Pazarda satılan ürünler sağlık koşullarına göre uygun mudur? Neden?

.....  
.....

Pazardan aldığımız ürünlerde hangi özellikleri aradınız? Neden?

.....  
.....

.....  
.....

8-Doğal afetlerle ortaya çıkış nedenleri eşleştirilirse hangi seçenek boşta kalır?

OLAY	NEDEN
Çığ	.....
Heyelan	.....
Orman yangını	.....

A)Kuru hava B)Kar  
C)Su D)Toprak

"İlgaz, Anadolu'nun sen yüce bir dağsın. Baharla yeryüzünde o cennetin bağısın. Yalçın kayalıkların göklere yükseliyor. Senin dumanlı başın bulutları deliyor.

9-Şiirde İlgaz Dağı'nın hangi özelliğinden bahsedilmemiştir?

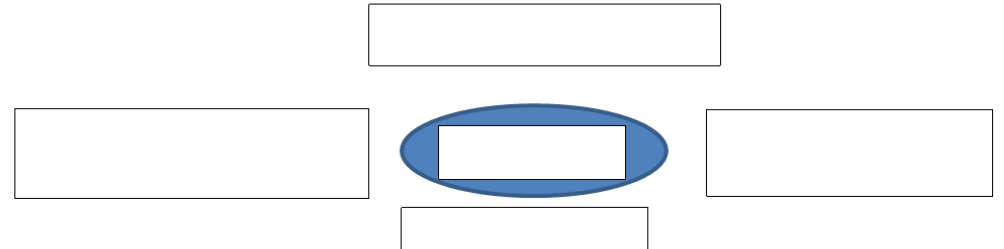
A)Yüksekliği B)Pek çok insanın yaşadığı C)Cennete benzediği D)Bulutlara ulaştığı

10-Yer kabuğunun derin katmanlarının kırılıp yer değiştirmesi nedeniyle oluşan sarsıntıya ..... denir.Bu cümlede noktalı yere aşağıdakilerden hangisi yazılmalıdır?

A)Heyelan B)Çığ C)Volkanik patlama D)Deprem

11-Aşağıdakilerden hangisi deprem sonrasında yapılması gerekenlerdendir?

A)Deprem çantası hazırlamak B)Ayakta durmamalı, koşmamalıyız.  
C)Binalardan uzak açık bir alana çıkmalıyız. D)Afet planı yapmalıyız.



12-Yukarıdaki şemada hoşgörülü insanların özellikleri verilmiştir. Buna göre ? yerine, aşağıdakilerden hangisi getirilmelidir?

A)Görüşlerine katılmasa da insanların düşüncelerini açıklamasından yanadır.  
B)İnsanların temel hak ve özgürlüklerine kısıtlama getirir.

C)Herhangi bir konuda kendisiyle farklı görüşe sahip kişilerle barış içinde yaşayamaz.

D)İnsanlarla konuşurken onları küçümser.


13-Aşağıdakilerden hangisi bireysel farklılıklar arasında sayılamaz?

A)Temel ihtiyaçlarımız B)Yeteneklerimiz C)Duygularımız D)İlgi alanlarımız


14-Aşağıdaki öğrencilerin yaptığı açıklamalardan hangisi hatalı olmuştur?




A) Endişe bir duygu biçimidir.



B) Duygularımız düşüncelerimizi etkiler.



C) Sadece duygularımızla hareket etmek bizi zor durumda bırakır.



D) Duygu, düşünce ve davranışlarımız birbirinden bağımsızdır.

15-Kaman, Kırşehir'in şirin bir ilçesidir.

Aşağıdakilerden hangisi Kaman'da yaşayan tüm bireylerle ilgili doğru bir ifade olur?

A)Hepsi aynı takımı tutar. C)Farklı ilgi ve yeteneklere sahiptirler.

B)Çok neşelidirler. D)Kitap okumaktan çok hoşlanırlar.



16-Kültürel öğelerimizle ilgili verilen örneklerden hangisi yanlıştır?

A)Mimari eser; Süleymaniye cami C)Giyim; Bindallı

B)Spor; Jimnastik D)Bayramlar; Kurban Bayramı

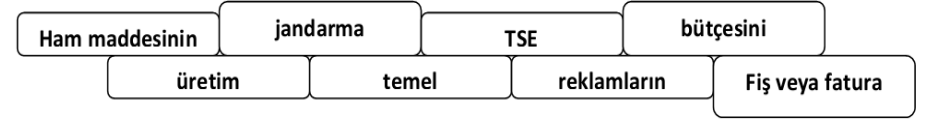
17-Lozan barış görüşmelerinde Türkiye'yi temsil eden İsmet Paşa, Kurtuluş Savaşı'nda Yunanlılara karşı ilk zaferimizi kazandığımız savaşa da komutanlık etmiştir. Yukarıda bahsedilen savaşın adı hangi seçenekte verilmiştir?

A)Sakarya Savaşı B) I.İnönü Savaşı

C)Başkomutanlık meydan muharebesi D)I.Dünya Savaşı

## Üretimden tüketime

### ETKİNLİK ÇALIŞMA KAĞIDI 2



Aşağıdaki cümlelerin noktalı yerlerine yukarıda verilen sözcüklerden uygun olanlarını yazınız.

- ① İnsanların yaşayışlarını sürdürebilmeleri için gerekli olan ihtiyaçlarına ..... ihtiyaç denir.
- ② Alışveriş yaparken alacağımız ürünün ..... damgası olup olmadığına mutlaka bakmalıyız.
- ③ Bilinçli bir tüketici her alışverişten sonra mutlaka ..... alır.
- ④ Bilinçli bir tüketici ..... insanların etkisine kapılmaz.
- ⑤ İhtiyaçlarını gidermek için yaptıkları her türlü faaliyete ..... denir.
- ⑥ Ürünlerin satışa sunulması için öncelikle ..... fabrikalarda işlenmesi gerekir.
- ⑦ .....can ve mal güvenliğimizi korumakla görevlidir.
- ⑧ Giderlerin gelire göre ayarlanması aile .....oluşturur.

### DOĞRU MU, YANLIŞ MI?

Aşağıdaki cümlelerde doğru olanların sonuna D, yanlış olanların sonuna Y yazınız.

1	Barınma bütün insanların temel ihtiyaçlarından biridir.	
2	Beslenme bütün canlıların ortak ihtiyaçlarından.	
3	Eğlence ve spor bütün insanların zorunlu ihtiyaçlarından.	
4	Tatil yapmak, sinemaya gitmek zorunlu ihtiyaçlarımızdandır.	
5	Zorunlu ihtiyaçları karşılamazsak da hayat devam eder.	
6	Alışverişte öncelikle zorunlu ihtiyaçlarımız alınmalıdır.	
7	Lüks ihtiyaçların karşılanmaması mutsuzluğa neden olabilir.	
8	Bir insan bütün ihtiyaçlarını kendisi karşılayabilir.	

- ♥ Sivas kongresi  
 ▲ Atatürk'ün Samsun'a çıkışı  
 ☆ TBMM'nin açılması  
 😊 Cumhuriyet'in ilanı

18-Yukarıda verilen olayların kronolojik sıralaması hangi seçenekte verilmiştir?

- A) ☆ ▲ ♥ 😊 B) ♥ ▲ 😊 ☆  
 C) ▲ ☆ 😊 ♥ D) ♥ ▲ ☆ 😊

19-Noel baba sağ kolunu güneşin battığı yöne doğru çevirdiğinde arkası hangi yöne bakar?

- A)Güney B)Kuzey C)Doğu D)Batı



20-

- ( ) Nüfus cüzdanımız Türkiye vatandaşı olduğumuzu gösterir.  
 ( ) T.C kimlik numaramız nüfus cüzdanımızda olması gereken bir bilgidir.  
 ( ) Korku, sevinç ve kıskançlık birer duygu ifadesidir.

Yukarıdaki ifadelerden sırasıyla doğru olanlar D, yanlış olanlar Y ile gösterilirse hangi seçenek doğru olur?

- A)D-Y-D-Y B)D-D-D-Y  
 C)Y-D-D-Y D)D-D-Y-D

Üretimden tüketime  
 ETKİNLİK ÇALIŞMA KAĞIDI  
 EŞLEŞTİRELİM

Aşağıdaki kavramları zorunlu ve lüks ihtiyaçlar olarak sınıflandırınız.

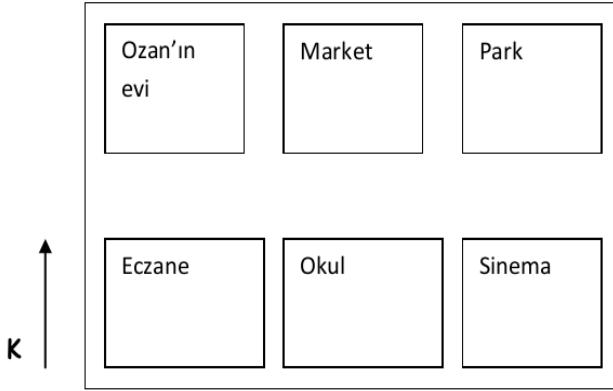
Ekmek	Zorunlu ihtiyaç	bilgisayar
araba		kömür
ev		Cep telefonu
parfüm	Lüks ihtiyaç	ayakkabı
elbise		kamera

Aşağıdaki kavramların anlamlarını yazınız.

Mal : .....  
 TSE Belgesi : .....  
 Garanti belgesi : .....  
 Ambalaj : .....  
 Son kullanma tarihi : .....  
 Bütçe : .....  
 Kalite : .....

Aşağıdakilerden hangilerini bilinçli bir tüketici yapar.? ( X ) işareti ile belirleyiniz.

- ☐ Temel ihtiyaçlarına öncelik verir.  
☐ Reklamı yapılan ürünleri satın alır.  
☐ Öncelikle lüks ihtiyaçlarını karşılar.  
☐ Satış fişini mutlaka alır.  
☐ Garanti belgesini alır.  
☐ Ambalajlı lüks ürünleri tercih eder.  
☐ Tüketici haklarını bilir ve uygular.  
☐ Kullanım kılavuzuna ihtiyaç duymaz.



23. ve 24. Soruları krokiye göre cevaplandırınız.

23-Yukarıdaki krokide market, okulun ....., sinema parkın ..... yer alır.

Krokiye göre noktalı yerlere sırasıyla hangi yönler gelmelidir?

A)Batısında- doğusunda B)Kuzeyinde-batısında

C)Kuzeyinde - güneyinde D)Güneyinde-kuzeyinde

24- Okuldan çıktım. Önce eczaneye, daha sonra evime gittim. İzlediğim yol, yönleri göre hangi seçenekte doğru belirtilmiştir?



- A)Doğu-güneydoğu
- B)Güneybatı-kuzeybatı
- C)Kuzey-güneydoğu
- D)Batı-kuzey

25-

Verimli toprakların; şiddetli rüzgârlar, uzun süreli yağışlar gibi çeşitli etkilerle aşınıp taşınmasıdır.



Emrah'ın açıklaması aşağıdaki sorulardan hangisinin yanıtıdır?

A)Heyelan nedir? B)Sel baskını nedir? C)Deprem nedir? D)Erozyon nedir?

21- CEPHE

SAVAŞILAN DEVLET

Doğu cephesi →

Ermeniler



Batı cephesi →

Ruslar



Güney cephesi →

Fransızlar



Yukarıda kurtuluş savaşındaki cephelerimiz ve bu cephelerde mücadele ettiğimiz devletler verilmiştir. Buna göre yapılan eşleştirmelerden hangi sembol ya da sembollerle gösterilenler doğrudur?

A) Yalnız



B)



ve



C)Yalnız



D)



ve



Meteoroloji Genel Müdürlüğü'nden edinilen bilgiye göre yarın Ankara'nın parçalı bulutlu, İstanbul'un güneşli, İzmir'in yağmurlu Konya'nın karla karışık yağmurlu olması beklenmektedir.

22-Yukarıdaki anlatıma göre, iller ve yaşanacak hava olayları ile ilgili eşleştirmelerden hangisi yanlıştır?

A)İstanbul →



B)İzmir →



C)Ankara →



D)Konya →

